

NAČRT DELA NA DALJAVO ZA 5. K_9. TEDEN

Čas: 18.5.-22.5.2020

Učitelj: Lidija Gomboc e-mail: lidija.gomboc1@gmail.com

ZADNJI ROK ZA ODDAJO GRADIVA JE 24.5.2020

V kolikor ti je lažje, lahko gradivo pošiljaš tudi dnevno. Dobro poglej katero mi pošlješ.

Do 25.5.2020 mi pošlji predstavitev živali v power pointu.

V naslednjem tednu bomo imeli preverjanje domačega branja-MISLICE.



Znak da potrebuješ internetno povezavo.



Ponovimo snov.

OCENJEVANJE V TEM TEDNU

NIT- Ocenjevanje sestavljeno iz praktičnega dela(izdelek) in ocenjevanja znanja obravnavanih vsebin. Natančnejša navodila za ocenjevanje so zapisana v sklopu tehniškega dne za petek. **Predlagam, da pogledaš kaj vse potrebuješ za delo, da boš imel-a v petek vse pripomočke pripravljene.** Starši bodite jim v pomoč pri pripravi pripomočkov, izdelovanje naj opravijo samostojno.

LUM- VSE LIKOVNE IZDELKE HRANI ZA ČAS OCENJEVANJA.



DELO PREKO ZOOM-a v tem tednu

Torek, ob 10.00 Slovenščina-po želji	Sreda, 18.00 Druženje s sošolci, sošolkami-po želji	Četrtek, 16.00 Pregled dela za ta teden.	Petek, 8.30 Navodila za tehniški dan in razlaga kriterijev ocenjevanja
--	--	---	--





STARŠI

V tem tednu tudi **GOVORILNE URE**. Prejeli ste dokument za vpis. Možen je pogovor preko ZOOM-a ali telefonskega klica.

GRADIVO ZA ANGLEŠČINO:

https://drive.google.com/open?id=1TqKPs-EKyldtbLE_1nOVBblydvF1bqgd

PREDMET	VSEBINA	DEJAVNOST
SLJ	Pridevnik-ponavljanje	Iz spodnjega besedila izpiši pridevnike in samostalnike ter jih določi (spol, število, vrsto pridevnika) Preveri v rešitvah ali v četrtek na ZOOM-u. 
MAT	Obseg lika-ponavljanje POŠLJEŠ-danes	Reši učni list z naslovom OBSEG-ponavljanje . Učni list imaš doma. 
DRU	Srednji vek, srednjeveška mesta	Prisluhni razlagi na posnetku- dobijo starši po elektronskem sporočilu . Dobro prisluhni razlagi, nato v zvezek zapiši naslov ŽIVLJENJE V SREDNJEVEŠKIH MESTIH . Pod naslov prepisi besedilo iz učbenika stran 83-POVZETEK in dodaj še sam nekaj povedi o vsebini, ki si jo poslušal-a.

Slovenščina-IZPIŠI IN DOLOČI PRIDEVNIKE skupaj s samostalnikom


Tudi pergament je bil cenjen material za pisanje. Izdelovali so ga iz kož raznih živali, največ ovac, koz in oslov. Ime je nastalo po mestu Pergamon v Mali Aziji, ki je bilo v starem veku pomembno središče za pridobivanje pergamenta.

Danes z nalivnim peresom pišemo v črtne zvezke. Pri slovenskem jeziku moramo paziti na čitljivo pisavo in urejen zapis. Uporabljamo barvne svinčnike, da poudarimo pomembne podatke.

Primer:

- cenjen material- m.sp., ed., lastnostni pridevnik

TOREK, 19.5.2020

PREDMET	VSEBINA	DEJAVNOST
MAT	Obseg lika-neznana stranica	Oglej si razlago spodaj, kako izračunaš neznano stranico pri pravokotniku in kvadratu, če imaš znan obseg. Besedilo prepisi v zvezek. Reši: DZ/64.
SLJ	Definicija pojma	V učbeniku na strani 89 si preberi razlago kaj je definicija. Primeri: <ul style="list-style-type: none">• Kapa je pokrivalo narejeno iz volne in nas varuje pred mrazom.• Svinčnik je pisalo, s katerim pišemo, rišemo.• Kitara je instrument s strunami, vratom, trupom in sedlom, na katerega brenkamo. Reši učni list-DEFINICIJA POJMA(imaš doma) Če želiš -Skupno reševanje učnega lista na ZOOM-u ob 10.00. 
NIT	Vremenski pojavi	Preberi besedilo, preglej slike v učbeniku na strani 52-54. V zvezek napiši naslov VREMENSKI POJAVI. Pod naslov razloži naslednje pojme povezane s prebranim besedilom. OPAZOVANJE VREMENA MERJENJE NEVIHTA METEOROLOG SATELITSKI POSNETEK NAPOVEDOVANJE VREMENA Upam, da ti je uspelo. Sedaj pa zapiši pod razložene besede še kakšno je danes vreme . Zvečer prisluhni vremenski napovedi za jutrišnji dan.
GUM	Izgubljeni v vesolju	Delovni zvezek stran 58. Dobro preberi navodilo za delo. Ponovil-a boš imena not in dobil-a zanimiva vesoljska bitja. Nato dodaj še svojega.

Zapis v zvezek: RAČUNANJE NEZNANE STRANICE PRI PRAVOKOTNIKU IN KVADRATU

- **Obseg** pravokotnika je **21 cm**. Stranica **a** je dolga **6 cm**. Koliko je dolga stranica **b**?

PRAVOKOTNIK

$$o = 20 \text{ cm}$$

$$a = 6 \text{ cm}$$

$$b = ?$$

Računanje neznane stranice pri pravokotniku:

$$o = 2 \cdot a + 2 \cdot b$$

$$2b = o - 2 \cdot a$$

$$2b = 20 \text{ cm} - 2 \cdot 6 \text{ cm}$$

$$2b = 20 \text{ cm} - 12 \text{ cm}$$

$$2b = 8 \text{ cm}$$

$$b = 8 \text{ cm} : 2$$

$$\underline{b = 4 \text{ cm}}$$

- **Obseg** kvadrata je **20 cm**. Koliko meri stranica **a**?

KVADRAT

$$o = 20 \text{ cm}$$

$$a = ?$$

Računanje neznane stranice pri kvadratu:

$$o = 4 \cdot a$$

$$a = o : 4$$


$$a = 20 \text{ cm} : 4$$

$$a = 5 \text{ cm}$$

Izračunaj:

- Obseg pravokotnika je 32 cm. Stranica b meri 10 cm. Koliko meri stranica a?
- Obseg zemljišča v obliki kvadrata je 120 m. Koliko meri stranica zemljišča?

PREDMET	VSEBINA	DEJAVNOST
DRU DRU	Srednjeveška mesta	<p>Preberi besedilo v učbeniku na strani 82, 83. Nato v zvezek prepisi miselni vzorec, ki je dodan spodaj ter dodaj opis za meščansko hišo.</p> <p>Oglej si:</p> <p>https://www.youtube.com/watch?v=h50CPy4eqM0</p> <p>https://www.youtube.com/watch?v=nF_QSTM-G6E</p> <p>https://www.rtv slo.si/tv/otroski/izodrom/zgodovina-zivljenje-v-srednjem-veku/521189</p> <p>ČE ŽELIŠ: https://www.youtube.com/watch?v=KAqCJwtepAw (Firbcologi-Vitez)</p>
NIT	Opazovanje vremena POŠLJEŠ do 29.5.2020	<p>V zvezek si nariši preglednico za opazovanje vremena, ki je narisana spodaj. Tvoja naloga je, da sedem dni spremljaš vreme in merjenja zapisuješ v preglednico. Ni potrebno, da so zaporedni dnevi.</p> <p>Uporabi pripomočke, ki jih imate doma ali si pomagaj, da pogledaš na različne spletne strani z napovedmi vremena ali aplikacijami na telefonu.</p> <p>http://www.vreme.si/napoved/Ljubljana/graf</p> <p>Če želiš: https://otroski.rtv slo.si/bansi/prispevek/1814</p>
SLJ SLJ	Odette Laquerre: Revolucija v kraljestvu bonbonov POŠLJEŠ	<p>Prebereš dramsko besedilo v berilu na straneh 86-89.</p> <p>Preberi razlago neznanih besed. Kaj pa je revolucija? Poišči v slovarju SSKJ razlago.</p> <p>Besedilo, ki si ga prebral-a sedaj spremeni v zgodbo v stripu. Ne pozabi dodati dogajanja, ki je zapisano na strani 88-zgoraj v oklepaju.</p> <p>Strip narediš v zvezek, sestavljen mora biti iz vsaj 6 prostorčkov.</p> <p>ČE ŽELIŠ, TE ZANIMA:</p> <p>https://otroski.rtv slo.si/infodrom/prispevek/1315</p> <p>https://www.youtube.com/watch?v=MDVqyu1qtw0 (Firbcologi)</p>



IZ ŽIVLJENJA V MESTIH-miselni vzorec

ŽIVLJENJE MEŠČANOV

- Delovni dan
- Hrana
- Bolezni-črna kuga
- Slabe zdravstvene in higienske razmere, težave z odpadki
- Pravila oblačenja za meščanke

VLOGA TRGOVCEV, OBRTNIKOV, KMETOV V MESTIH

- Tržni dan, sejem
- Tržni prostor
- Tržni mir, kazni ob kršitvah
- Kmetje prodajali pridelke.
- Obrtniki prodajali obrtne izdelke.
- Trgovci potovali in se udeleževali sejmov.

IZ ŽIVLJENJA V MESTIH

MEŠČANSKA HIŠA-opiši jo

OPAZOVANJE VREMENA-7 dni

DATUM	temperatura zraka	vlaga	zračni tlak	veter	padavine	vremenski znak





PREDMET	VSEBINA	DEJAVNOST
SLJ	Bralna ura-hitro branje Feri Lainšček Mislice	Pripravi se na preverjanje domačega branja-MISLICE. Preglej še enkrat besedilo in se spomni na pomembne osebe, dogajanja, zaključke, sporočila. <i>Hitro branje pomeni, da v kratkem času pridemo do informacij, ki so v pisni obliki. Smisel hitrega branja je osvajanje velike količine informacij v kratkem času. Pri tem je zelo pomembno, da informacije razumemo in jih kasneje lahko uporabimo.</i>
MAT	Obseg-vaja	DZ/65 Vadiš na Moja matematika.si. Obseg lika.
DRU	Srednji vek-ponavljanje	Reši KVIZ. Povezavo dobijo starši v elektronskem sporočilu.
LUM	Moj cehovski znak Viteški ščit Grb srednjeveškega mesta	Tokrat lahko izbiraš tremi izdelki, ki jih narediš iz kartona (kartonska škatla). Izrežeš in narišeš svoj cehovski znak. Izdelaš viteški ščit in ne pozabi na svoj znak. Izdelaš svoj primer grba za srednjeveško mesto v katerem si živel.



PETEK, 22.5.2020-TEHNIŠKI DAN-IZDELAVA HLADILNE TORBE-ocenjevanje

Ocenjevanje naravoslovja in tehnike bo sestavljeno iz dveh delov:

1. praktičnega dela- izdelava hladilne torbe, ki jo učenci naredijo v času tehniškega dne- **22.5.2020.**
2. ustnega dela-potekalo bo **27.5.2020**, po razporedu preko ZOOM-a.

Razpored ocenjevanja:

RAZPORED DOBIJO STARŠI PO ELEKTRONSKI POŠTI.

Učenec se prijavi v ZOOM ob določeni uri in počaka, da mu dovolim vstop. Ocenjevanje bo potekalo individualno, zato prosim za potrpežljivost pri čakanju. V primeru težav glede časa, se dogovarjamo individualno.

Kriteriji ocenjevanja izdelka

Ocena	Izdelek narejen po navodilih.	Natančnost izdelave-striženje, lepljenje, robovi.	Barvanje, dekoracija izdelka (okrasitev, držalo)	Urejen in natančen zapis poročila	Točke -skupaj
2	1	2	1	1	5
3	2	3	1	2	8
4	3	4	1	3	11
5	3	5	1	4	13

Poročilo in sliko izdelka učenci pošljejo 22.5.2020.

VSEBINE USTNEGA OCENJEVANJA- <i>Voda teče navzdol, Kako toplo je, Kaj gori, Prilagoditve živali na mraz</i>		
		Moje točke
izdelek	13	
znanje snovi	7	
skupaj	20	
Meje med ocenami:	Ocena:	
0-9/nzd 1,10-12/zd 2,13-15/db 3,16-17/pdb 4,18-20/odl 5		

PREDMET	VSEBINA	DEJAVNOST
TEHNIŠKI DAN-IZDELAVA HLADILNE TORBE		
<ol style="list-style-type: none">1. Ob 8.30 skupen pregled navodil za delo. Imej pripravljen delovni zvezek iz naravoslovne škatle in pisalo ter zvezek za naravoslovje. Pripravi si primeren prostor za delo.2. Priprava pripomočkov za delo.3. Izdelava izdelka po navodilih. Izpustimo dodajanje kosov stiroporja, saj doma nimate ustreznih pripomočkov za natančno rezanje. Kdor pa želi, ga lahko izreže s pomočjo lepenkarskega noža. Ne pozabi na podlago. To ne vpliva na oceno.4. Izolirno torbo okrašiš-pobarvaš, polepiš, okrašiš z vzorci, dodaš držalo na pokrov.5. Po zaključku izdelave pospraviš prostor.6. V zvezek zapišeš poročilo. Pazi na urejenost zapisa!!!<ul style="list-style-type: none">• IZDELEK:• GRADIVA:• ORODJA, PRIPOMOČKI:• OPIS POSTOPKA IZDELAVE:		
DANES POŠLJEŠ POROČILO IN SLIKO IZDELKA.		
<p>V času od 10.00-12.00 bom dosegljiva na ZOOM-u, če boš potreboval-a pomoč. Od 12.45 do 13.00 mi lahko izdelek pokažete preko ZOOM-a. (PO ŽELJI)</p>		
<p>V kolikor bi potrebovali še kakšno informacijo, mi pišite na elektronski naslov.</p>		