

Ime: _____

Datum: 12. 3. 2020

PREVERI SVOJE ZNANJE

1. Izračunaj.

$3 \cdot 4 = \underline{\quad}$

$6 \cdot 2 = \underline{\quad}$

$9 \cdot 5 = \underline{\quad}$

$9 \cdot 6 = \underline{\quad}$

$6 \cdot 10 = \underline{\quad}$

$8 \cdot 3 = \underline{\quad}$

$2 \cdot 2 = \underline{\quad}$

$5 \cdot 3 = \underline{\quad}$

$\underline{\quad} \cdot 6 = 18$

$7 \cdot \underline{\quad} = 21$

$60 = \underline{\quad} \cdot 6$

$36 = \underline{\quad} \cdot \underline{\quad}$

2. Izračunaj.

$10 : 5 = \underline{\quad}$

$27 : 3 = \underline{\quad}$

$40 : 4 = \underline{\quad}$

$6 : 6 = \underline{\quad}$

$40 : 10 = \underline{\quad}$

$12 : 2 = \underline{\quad}$

$18 : 6 = \underline{\quad}$

$28 : 4 = \underline{\quad}$

$24 : 6 = \underline{\quad}$, ker je _____

$32 : 4 = \underline{\quad}$, ker je _____

3. Postavi znak $>$, $<$ ali $=$.

$5 \cdot 5 \underline{\quad} 5 \cdot 4$

$7 \cdot 2 \underline{\quad} 6 \cdot 3$

$6 \cdot 5 \underline{\quad} 5 \cdot 6$

$32 : 4 \underline{\quad} 16 : 2$

$15 : 5 \underline{\quad} 16 : 4$

$12 : 4 \underline{\quad} 1 \cdot 3$

$4 \text{ h } \underline{\quad} 6 \text{ h}$

$52 \text{ min } \underline{\quad} 25 \text{ min}$

$34 \text{ h } \underline{\quad} 34 \text{ min}$

4. Šivilja je sešila 5 hlač. Na vsake hlače je prišila 3 žepe. Koliko žepov je prišila?

Nariši.

R: _____

O: _____

5. V garderobni omarici je 16 čevljev. Koliko parov čevljev je to?

R: _____

O: _____

6. Zidarji so v torek delali 5 ur, v sredo pa 2-krat več ur. Koliko časa so delali v sredo?

R: _____

O: _____

7. Za račun $50 : 5$ sestavi besedilno nalogo. Nalogo tudi izračunaj in zapiši odgovor.

8. Izračunaj. Lihe rezultate pobarvaj z zeleno barvico.

$49 + 32 = \underline{\quad}$

$7 + \underline{\quad} = 20$

$\underline{\quad} + 11 = 20$

$24 + 58 = \underline{\quad}$

$44 + \underline{\quad} = 52$

$\underline{\quad} + 27 = 64$

$71 - 19 = \underline{\quad}$

$19 - \underline{\quad} = 3$

$\underline{\quad} - 9 = 9$

$65 - 36 = \underline{\quad}$

$83 - \underline{\quad} = 38$

$\underline{\quad} - 67 = 24$

9. Na taborjenju je bilo nekaj otrok. 11 otrok je že odšlo domov, 24 pa jih še tabori.

Koliko otrok je bilo na taborjenju? Pazi na pravilen zapis računa.

R: _____

O: _____

10. Marjeta je prvi dan prebrala 23 strani, tudi drugi dan je nekaj strani prebrala.

Do sedaj je prebrala že 52 strani. Koliko strani je prebrala drugi dan?

Pazi na pravilen zapis računa.

R: _____

O: _____

11. Obkroži predmete. Zapiši krajše.

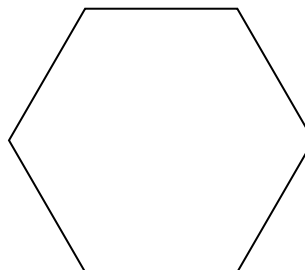

✂ ✂ ✂ ✂ ✂

✂ ✂ ✂ ✂ ✂

polovico _____

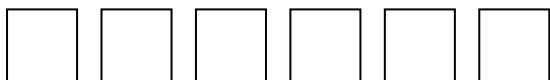
petino _____

12. Krog razdeli na četrtine. Pobarvaj četrtino. Šestkotnik razdeli na polovici. Pobarvaj polovico.



13. Ustrezno pobarvaj in odgovori.

Jan je narisal 12 kvadratov. Ena četrtina je rumenih, ostali so modri.



Koliko kvadratov je pobarval rumeno? _____

Koliko kvadratov je pobarval modro? _____

Ali je modrih kvadratov več kot polovica? _____