

Ime: \_\_\_\_\_

Datum: 12. 3. 2020

## PREVERI SVOJE ZNANJE - rešitve

### 1. Izračunaj.

$3 \cdot 4 = 12$

$6 \cdot 2 = 12$

$9 \cdot 5 = 45$

$9 \cdot 6 = 54$

$6 \cdot 10 = 60$

$8 \cdot 3 = 24$

$2 \cdot 2 = 4$

$5 \cdot 3 = 15$

$3 \cdot 6 = 18$

$7 \cdot 3 = 21$

$60 = 10 \cdot 6$

$36 = 6 \cdot 6$  ali  $36 = 4 \cdot 9$

### 2. Izračunaj.

$10 : 5 = 2$

$27 : 3 = 9$

$40 : 4 = 10$

$6 : 6 = 1$

$40 : 10 = 4$

$12 : 2 = 6$

$18 : 6 = 3$

$28 : 4 = 7$

$24 : 6 = 4$ , ker je  $4 \cdot 6 = 24$

$32 : 4 = 8$ , ker je  $8 \cdot 4 = 32$

### 3. Postavi znak $>$ , $<$ ali $=$ .

$5 \cdot 5 > 5 \cdot 4$

$7 \cdot 2 < 6 \cdot 3$

$6 \cdot 5 = 5 \cdot 6$

$32 : 4 = 16 : 2$

$15 : 5 < 16 : 4$

$12 : 4 = 1 \cdot 3$

$4 \text{ h} < 6 \text{ h}$

$52 \text{ min} > 25 \text{ min}$

$34 \text{ h} > 34 \text{ min}$

4. Šivilja je sešila 5 hlač. Na vsake hlače je prišila 3 žepe. Koliko žepov je prišila?

Nariši.



R:  $5 \cdot 3 = 15$  ali  $3 \cdot 5 = 15$

O: Prišila je 15 žepov.

5. V garderobni omarici je 16 čevljev. Koliko parov čevljev je to?

R:  $16 : 2 = 8$

O: To je 8 parov čevljev.

6. Zidarji so v torek delali 5 ur, v sredo pa 2-krat več ur. Koliko časa so delali v sredo?

R:  $5 \text{ h} \cdot 2 = 10 \text{ h}$  ali  $2 \cdot 5 \text{ h} = 10 \text{ h}$

O: V sredo so delali 10 ur (10 h).

7. Za račun  $50 : 5$  sestavi besedilno nalogo. Nalogo tudi izračunaj in zapiši odgovor.

Npr. Metka je pospravljala shrambo. 50 kozarcev kompota je postavila na 5 polic, na vsako enako število kozarcev. Koliko kozarcev kompota je položila na vsako polico?

R:  $50 : 5 = 10$

O: Na vsako polico je položila 10 kozarcev kompota.

8. Izračunaj. Lihe rezultate pobarvaj z zeleno barvico.

$49 + 32 = 81$

$7 + 13 = 20$

$9 + 11 = 20$

$24 + 58 = 82$

$44 + 8 = 52$

$37 + 27 = 64$

$71 - 19 = 52$

$19 - 16 = 3$

$18 - 9 = 9$

$65 - 36 = 29$

$83 - 45 = 38$

$91 - 67 = 24$

9. Na taborjenju je bilo nekaj otrok. 11 otrok je že odšlo domov, 24 pa jih še tabori.

Koliko otrok je bilo na taborjenju? Pazi na pravilen zapis računa.

R:  $\underline{35} - 11 = 24$  (koliko minus 11 je enako 24)

O: Na taborjenju je bilo 35 otrok.

10. Marjeta je prvi dan prebrala 23 strani, tudi drugi dan je nekaj strani prebrala.


Do sedaj je prebrala že 52 strani. Koliko strani je prebrala drugi dan?

Pazi na pravilen zapis računa.

R:  $23 + \underline{29} = 52$  (23 plus koliko je enako 52)

O: Drugi dan je prebrala 29 strani.

11. Obkroži predmete. Zapiši krajše.



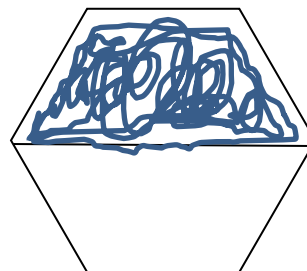
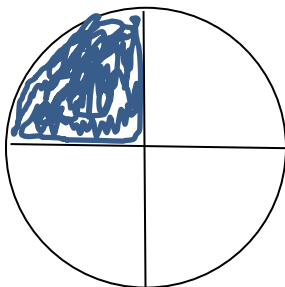
✂ ✂ ✂ ✂ ✂

polovico  $\frac{1}{2}$



petino  $\frac{1}{5}$

12. Krog razdeli na četrtnine. Pobarvaj četrtno. Šestkotnik razdeli na polovici. Pobarvaj polovico.



13. Ustrezno pobarvaj in odgovori.

Jan je narisal 12 kvadratov. Ena četrtnina je rumenih, ostali so modri.



Koliko kvadratov je pobarval rumeno? 3

Koliko kvadratov je pobarval modro? 9

Ali je modrih kvadratov več kot polovica? da